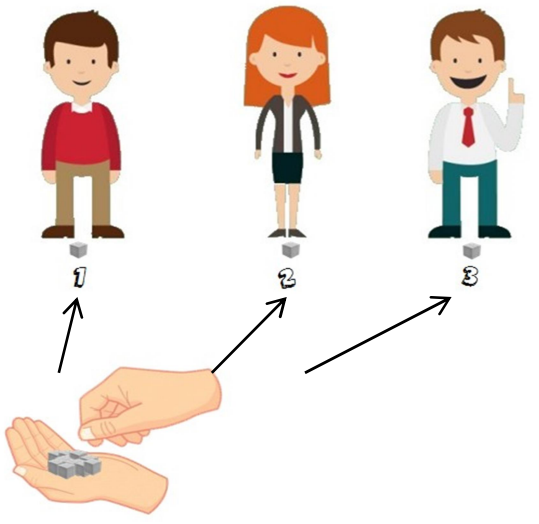
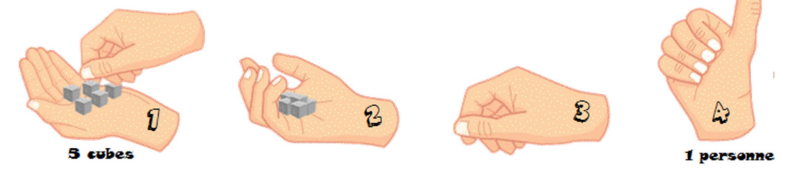


$$\begin{array}{r} 17 \quad 3 \\ 2 \quad 5 \end{array}$$
 J'ai 17 cubes que je partage entre 3 personnes.
 Combien chaque personne va-t-elle avoir de cubes ?



$$\begin{array}{r} 17 \quad 5 \\ 2 \quad 3 \end{array}$$
 J'ai 17 cubes. Je veux donner 5 cubes à chaque joueur.
 Combien y aura-t-il de joueurs ?

Je fais des tas



PARTAGE

QUOTIENTE

Division posée

Dividende
CUBES

Diviseur
PERSONNES

CUBES par personne
quotient

Division posée

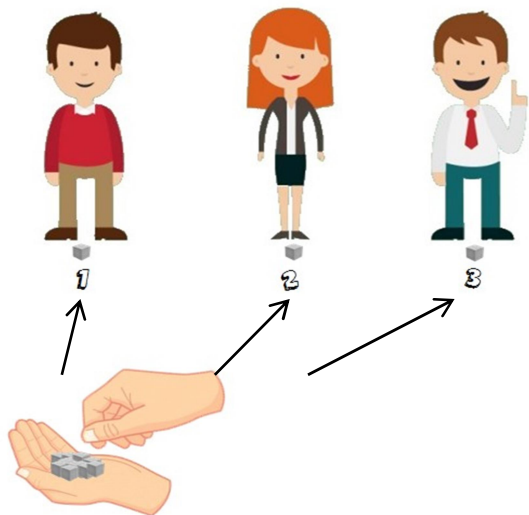
Dividende
CUBES

Diviseur
CUBES par personne

PERSONNES
quotient

$$\begin{array}{r} 17 \\ 3 \overline{) 5} \end{array}$$

J'ai 17 cubes que je partage entre 3 personnes. Combien chaque personne va-t-elle avoir de cubes ?

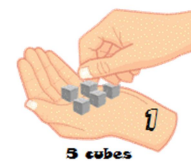


J'ai 17 cubes. Je veux donner 5 cubes à chaque joueur. Combien y aura-t-il de joueurs ?

$$\begin{array}{r} 17 \\ 5 \overline{) 3} \end{array}$$




5 cubes = 1 personne



5 cubes

1 personne

PARTAGE
QUOTIEN




CUBES

PERSONNES



CUBES par personne



CUBES

CUBES par personne



PERSONNES